

№ вопроса	1	2	3	4
ОТВЕТЫ				
Баллы	5	2	3	7

Легоконструирование

Возрастная группа 1-2 класс


Ф.И. _____

Школа _____

1) С помощью какого средства передвижения робот будет лучше ездить по песку?


- а) На колесах
- б) Гусеницами
- в) «Ногами»

2) Определите размер детали Lego




- а) 6*1
- б) 6*6
- в) 2*6
- г) 2*7

3) Как называется деталь



- а) Ось
- б) Шкив
- в) трубочка
- г) палочка

4) В какую сторону будет крутиться большое зубчатое колесо, если ведущее зубчатое колесо крутится по часовой стрелке



- а) Против часовой стрелки
- б) Стоит на месте
- в) По часовой стрелке